

Résoudre des problèmes relevant des quatre opérations






Avoir au moins 14 sur 20

validé : oui - non

Calculer un bénéfice – évaluation CFG

Afin de préparer les cafés qu'ils vendent, les élèves de la SEGPA ont passé une commande à leur fournisseur.

Extraits du catalogue du fournisseur :

<p>Galettes Pur Beurre Bio</p> 	<p>Café Bio Commerce équitable</p> 	<p>Sucre en bâchette</p> 
	<p>Un paquet permet de préparer environ 40 tasses de café.</p> <p>Poids net : 250 g e</p>	
<p>0.96 € le paquet</p>	<p>2.40 € le paquet</p>	<p>1,50 € la boîte</p>

1) Calcule le *montant total de leur commande.*

/4

2) Calcule le *prix d'une galette.*

/4

<p>Commande</p> <ul style="list-style-type: none"> 2 paquets de café 4 paquets de galettes 2 boîtes de sucre bâchettes
<p>Calculs et résultat</p> <p>.....</p> <p>.....</p> <p>.....</p> <p>.....</p> <p>.....</p> <p>.....</p> <p>.....</p> <p>.....</p> <p>Prix total :€</p>

<p>Calculs et résultat</p> <p>.....</p> <p>.....</p> <p>.....</p> <p>.....</p> <p>.....</p> <p>Prix d'une galette :€</p> <p>Prix d'une galette : centimes</p>
--



Date :

Prénom :

Calculer un bénéfice – évaluation CFG (suite)

3) Calcule le prix d'une tasse café. /3

Calculs et résultat
Prix d'un café :€
Prix d'un café : centimes

4) Calcule le prix d'une seule bûchette de sucre. /3

Calculs et résultat
Prix d'une bûchette:€
Prix d'une bûchette : centimes

5) Les élèves vendent la composition suivante : un café, deux galettes et une bûchette. Quel est le coût de cette composition ? /4

Calculs et résultat
Coût de la composition :€
Coût de la composition : centimes

6) Les élèves vendent cette composition 0,45 euros. Calcule le bénéfice qu'ils font en vendant une composition. /2

Calculs et résultat
Bénéfice par café :€
Bénéfice par café : centimes

